

บรรณานุกรม



ภาษาไทย

คณะกรรมการวางแผนพื้นฐานเพื่อปฏิรูปการศึกษา. รายงานฉบับพิเศษเรื่องแนวทางการปฏิรูปการศึกษาสำหรับรัฐบาลในอนาคต. พระนคร: โรงพิมพ์ศูนย์การทหารราบ, 2518.

คึกฤทธิ์ ปราโมช, ม.ร.ว. ถกเขมร. พิมพ์ครั้งที่ 4 พระนคร: ก้าวหน้า, 2513.

_____. พม่าเสียเมือง. พระนคร: ก้าวหน้า, 2512.

_____. สงครามเวียตนาม. พระนคร: บรรณาคาร, 2511.

จ. โชติพันธุ์. ประวัติศาสตร์การปกครองและการเมืองของสาธารณรัฐแห่งฟิลิปปินส์. พระนคร: แพร่พิทยา, 2512.

จรรยา คุณมี. "การศึกษาสภาพทั่วไปที่เป็นอุปสรรคต่อการเรียนการสอนวิชาภูมิศาสตร์ชั้นมัธยมศึกษาตอนปลายสายสามัญในภาคตะวันออกเฉียงเหนือ." ปรวิญญานีพันธการศึกษามหาบัณฑิต วิทยาลัยวิชาการศึกษาประสานมิตร, 2513.

จรรยา จ้วนาน. "การฝึกอบรมครูสอนเด็กชาวเขาในการสอนวิชาสังคมศึกษา," วิทยานิพนธ์ครุศาสตรมหาบัณฑิต บัณฑิตวิทยาลัย จุฬาลงกรณ์มหาวิทยาลัย, 2517.

ชัยยงค์ พรหมวงศ์. "แนวความคิดจากระบบพัฒนาหลักสูตรและการจัดห้องเรียนแบบศูนย์การเรียน," วารสารครุศาสตร์ พุศิจิรายน, 2517.

เชิดชาย เหล่าหล้า พ.อ. (พิเศษ) และนรนิติ เศรษฐบุตร. การปกครองและการเมือง
ของประเทศต่าง ๆ ในเอเชียตะวันออกเฉียงใต้ พระนคร: แพรวพิทยา, 2514.

คำวิ เกิดเกตุ. "ปัญหาการสอนวิชาภูมิศาสตร์ในชั้นมัธยมศึกษาตอนต้น เขตภาคการศึกษา,"
วิทยานิพนธ์ครุศาสตรมหาบัณฑิต บัณฑิตวิทยาลัย จุฬาลงกรณ์มหาวิทยาลัย, 2515.

ทรรศนิยา กัลยาณมิตร. "หนังสือประกอบการสอน," วารสารครุศาสตร์
สิงหาคม - ตุลาคม, 2517.

ทองใบ แดงน้อย. แผนที่ภูมิศาสตร์ประโยชน์ประเภทศึกษาตอนปลาย, พระนคร:
ไทยวัฒนาพานิช, 2515.

ธวัช บุรีรักษ์. "วิธีสอนวิชาภูมิศาสตร์," วิทยาสาร. (กรกฎาคม, 2519).

ธีระชัย ปุณฺณโชติ. "การสอนวิทยาศาสตร์แนวใหม่," หนังสือที่ระลึกในงานพระราชทาน
เพลิงศพ ศาสตราจารย์ ดร. จรูญทัศน์ พุกกะมาน, พระนคร: โรงพิมพ์รัตนสาร,
2519.

บรรจง ชูสกุลชาติ. "ทำไมจึงต้องปฏิรูปการศึกษา," วิทยาสาร. (มกราคม -
กุมภาพันธ์, 2518), 13.

บัลลังก์ ชมะสุนทร, พ.อ. หนังสือประกอบการเรียนสังคมศึกษาวิชา "แผนที่"
ชั้นมัธยมศึกษาปีที่ 4. พระนคร: โรงพิมพ์คุรุสภา, 2514.

บุปผา วงษ์สนธิ. "การพัฒนาทักษะในการสอนสังคมศึกษา," วิทยานิพนธ์ครุศาสตรมหาบัณฑิต
บัณฑิตวิทยาลัย จุฬาลงกรณ์มหาวิทยาลัย, 2516.

ประคอง กรรณสูตร. สถิติศาสตร์ประยุกต์สำหรับครู. พระนคร: ไทยวัฒนาพานิช, 2514.

ประจักษ์ เจียรบรรยง. "การสำรวจการใช้วิธีสอนกิจกรรมและอุปกรณ์ในการสอนวิชา
ภูมิศาสตร์ระดับประกาศนียบัตรวิชาการศึกษา," ปริชญานิพนธ์การศึกษามหาบัณฑิต
วิทยาลัยวิชาการศึกษาประสานมิตร, 2513.

ประเสริฐ วิทยารัฐ. "แนะนำการอ่านแผนที่," วิทยุศึกษา, 10(กันยายน, 2503),
16 - 47.

ปาริชาติ วรณประภา. "ปัญหาการเรียนการสอนวิชาภูมิศาสตร์ในชั้นมัธยมศึกษาตอนปลาย,"
วิทยานิพนธ์ครุศาสตรมหาบัณฑิต บัณฑิตวิทยาลัย จุฬาลงกรณ์มหาวิทยาลัย, 2518.

พระมหาบุญช่วย. อินโดเนเซียวันนี้. พระนคร: โรงพิมพ์มหานุกุลราชวิทยาลัย, 2518.

มีชัย วรสายัณห์. "การศึกษาปัญหาและอุปสรรคของครูอาจารย์ผู้สอนวิชาภูมิศาสตร์ระดับ
ประกาศนียบัตรวิชาการศึกษา," ปริชญานิพนธ์การศึกษามหาบัณฑิต
วิทยาลัยวิชาการศึกษาประสานมิตร, 2512.

ละ เมียก ลิ้มอักษร. "หนังสือประกอบการสอน," ประชาศึกษา (เมษายน, 2516).

ศิลาปชัย ดวงแก้ว. "การสร้างแบบจำลองการสอนสังคมศึกษา ชั้นประถมศึกษาปีที่ 4
สำหรับครูช่วยสอนเด็กชาวเขา," วิทยานิพนธ์ครุศาสตรมหาบัณฑิต บัณฑิตวิทยาลัย
จุฬาลงกรณ์มหาวิทยาลัย, 2518.

ศิริพร ชีรบดี. "การสร้างบทเรียนแบบโปรแกรม เรื่องการอ่านและเขียนแผนที่ประเทศไทย
สำหรับชั้นประถมศึกษาตอนปลาย," วิทยานิพนธ์ครุศาสตรมหาบัณฑิต บัณฑิตวิทยาลัย
จุฬาลงกรณ์มหาวิทยาลัย, 2518.

สมพงษ์ ศิริเจริญ และเป็รื่อง กุฑุท. แผนที่โครงการภูมิศาสตร์ ประวัติศาสตร์.
พิมพ์ครั้งที่ 6 พระนคร: อักษรเจริญทัศน์, 2511.

สีปนนท์ เกตุทัต. "การศึกษาเพื่อชีวิตและสังคม," หนังสือที่ระลึกในงานพระราชเพลิงศพ
ศาสตราจารย์ ดร. จรุงทัศน์ ทุกกะมาน พระนคร: โรงพิมพ์รัตนสาร, 2519.

สุทธิพงษ์ หกสุวรรณ. "การศึกษาเปรียบเทียบผลการเรียนรู้ข้อเท็จจริงในวิชาสังคมศึกษา
ชั้นประถมศึกษาปีที่ 6 โดยการใ้แผนที่ชุดกับสไลด์," ปริญญานิพนธ์การศึกษา
มหาบัณฑิต วิทยาลัยวิชาการศึกษาประสานมิตร, 2516.

สุนทร สุนันท์ชัย. คู่มือวิชาการศึกษาเทคนิคและวิธีสอนสังคมศึกษา. พระนคร:
สำนักพิมพ์สหบัณฑิต, 2514.

สุนน อมรวิวัฒน์. การสอนสังคมศึกษาในชั้นประถม (เอกสาร. อัดสำเนา).

—————. "โฉมหน้าของหลักสูตรประถมศึกษาฉบับใหม่," เอกสารการประชุมวิชาการ
โรงเรียนสาธิตจุฬาลงกรณ์มหาวิทยาลัย ฝ่ายประถม. (พฤษภาคม, 2519.)


วิไลวรรณ ตรีศรี. "การสร้างแบบจำลองการสอนสังคมศึกษาชั้นประถมศึกษาปีที่สาม
สำหรับครูช่วยสอนเด็กชาวเขา," วิทยานิพนธ์ครุศาสตรมหาบัณฑิต บัณฑิตวิทยาลัย
จุฬาลงกรณ์มหาวิทยาลัย, 2518.

หน่วยศึกษานิเทศก์ กรมสามัญศึกษา. คู่มือนิเทศการศึกษาการสอนภูมิศาสตร์ในชั้นประถมศึกษา.
พระนคร: โรงพิมพ์คุรุสภา, 2515.

อัมพร มีสุข. "การศึกษาปฏิรูป," วิทยุศึกษา (กุมภาพันธ์.- มีนาคม, 2519).

อุทัย อุดลยเกษม. "ความคิดทางการศึกษาของเปาโลเฟร," ปจจารย์สาร
(กันยายน - พฤศจิกายน, 2516), 63.

เอกวิทย์ ณ ถลาง. "สภาพและปัญหาการประถมศึกษา," ศูนย์ศึกษา (มกราคม -
กันยายน, 2515), 30 - 31.



ศูนย์วิทยทรัพยากร
จุฬาลงกรณ์มหาวิทยาลัย

ภาษาอังกฤษ

- Banks, Jame A. A Teaching Strategies for the Social Studies
Massachusetts: Addison - Wesley Publishing Co., 1973.
- Bruner, Jerome S. "The Act of Discovery in Reading for Social
Studies in Elementary Education," Harvard University,
February, 1965, p. 3.
- Buchanam, Keith. The Southeast Asian World. London :
G. Bill and Sons, Ltd., 1973.
- Burger, Evelyn and Winters Bonnie A. Social Studies in the
open classroom. New York: Teacher college press, 1973.
- Burleigh, charles. The Living Mekong, Sydney: Angus and
Robertson Ltd., 1971.
- Chase, Linwood W. and John, Martta Tyler. A Guide for the
Elementary Social Studies Teacher. Massachusetts:
Allyn and Bocon Inc., 1974.
- Erickson, Carton W.H. Administrating Audio - Visual Service
New York: McGraw -Hill Book Co., 1959.
- Fred R. Von der Mehden. South -East Asia 1930 - 1970. London:
Thames and Hudson Ltd., 1974.

- Garette, Henry E. Statistics in Psychology and Education.
New York: Longman, Green and Co., 1960.
- Geis, Darlene. Let's Travel in the Philippines. Chicago:
Children Press Inc., 1968.
- Herman, Wagne L. "Map, Globes, and Other Instruction Aids,"
Current Research in Elementary School Social Studies.
London: Mcmillan Co., 1969.
- Jarolimek, John. Social Studies in Elementary Education.
New York: Mcmillan Company, 1967.
- Kohn, Clyde F. "Interpreting Maps and Globes in Skills in
Social Studies," Twenty - Fourth Year Book. National
Council for the Social Studies, New York: 1953.
- Lewis, G.E.D. . "People of Malaysis," Junior Malaysian Colour
Geographies; Kuala Lumpur: Longmans Malaysia Sdn.,
1965.
- Machaelis, John U. Social Studies for children in a Democracy.
New Jersey: Prentice-Hall, Inc., 1977.

Pettelkay, Harald. Malaysia Tokyo: Kodansha International
Ltd., 1975.

..... Burma. Tokyo: Kodansha International Ltd., 1975.

Pye, Lucian W. Southeast Asia's Political Systems, New Jersey:
Prentice - Hall Inc., 1974.

Ryan, Frank L. Exemplars for the New Social Studies. New Jersey:
Prentice - Hall, Inc., 1971.

Sewitzer, Wilbur J. "The Map Exercise as a Basic for Critical
Thinking in High School Geography," The Journal of
Geography Vol 59 (October 1960.)

Thomes, Evelyn F. The Story of Laos. Ohio: Mc Cormick- Mathers
Publishing Company, Inc., 1967.

Werner, Elsa Jane. My colour book of Geography.. London :
Hamlyn Publishing Ltd., 1972.



ภาคผนวก

ศูนย์วิทยทรัพยากร
จุฬาลงกรณ์มหาวิทยาลัย



ภาคผนวก ก.

วิธีคำนวณเพื่อวิเคราะห์ข้อมูล

ศูนย์วิทยทรัพยากร
จุฬาลงกรณ์มหาวิทยาลัย

ผนวก ก.

ตารางที่ 2 ตารางแสดงค่าอำนาจจำแนกและระดับความยากรายข้อของแบบทดสอบ

ข้อสอบข้อที่	ระดับความยาก	อำนาจจำแนก
1	57	.34
2	63	.26
3	67	.26
4	74	.36
5	41	.42
6	61	.30
7	50	.20
8	75	.30
9	51	.30
10	80	.32
11	42	.28
12	49	.50
13	73	.34
14	42	.24
15	80	.24
16	57	.26
17	72	.40
18	54	.56
19	36	.32
20	69	.42

ตารางที่ 2 (ต่อ)

ข้อทดสอบที่	ระดับความยาก	อำนาจจำแนก
21	67	.22
22	84	.28
23	54	.28
24	64	.32
25	69	.28
26	76	.24
27	51	.38
28	54	.20
29	33	.22
30	70	.32
31	74	.28
32	51	.26
33	75	.30
34	69	.30
35	78	.28
36	60	.28
37	40	.24
38	54	.20
39	63	.22
40	72	.36
41	81	.26
42	53	.30

ตารางที่ 2 (ต่อ)

ข้อสอบข้อที่	ระดับความยาก	อำนาจจำแนก
43	60	.24
44	71	.22
45	71	.22
46	74	.40
47	59	.26
48	71	.42
49	61	.34
50	27	.26
51	65	.42
52	78	.24
53	41	.26
54	61	.34
55	45	.38
56	64	.40
57	67	.26
58	49	.38
59	40	.32
60	70	.44
61	54	.40
62	54	.24
63	70	.36

ตารางที่ 3 ค่าคะแนนการสอบก่อนและสอบหลังสอนในการวัดสัมฤทธิ์ผลทางการเรียนของ
กลุ่มทดลอง

คนที่	Pre - test	Post - test	d	d ²
1	43	57	14	196
2	35	51	16	256
3	47	54	7	49
4	34	41	7	49
5	43	52	9	81
6	32	52	20	400
7	38	52	14	196
8	24	50	26	676
9	35	51	16	256
10	40	52	12	144
11	43	53	10	100
12	44	56	12	144
13	38	47	9	81
14	26	47	21	441
15	35	51	16	156
16	31	44	13	169
17	21	35	14	196
18	32	55	23	529
19	26	47	21	441
20	19	46	27	729

ตารางที่ 3 (ต่อ)

คนที่	Pre - test	Post - test	d	d ²
21	27	48	21	441
22	22	53	31	961
23	21	30	9	81
24	29	53	24	576
25	29	48	19	361
26	30	42	12	144
27	33	54	21	441
28	17	29	12	144
29	19	29	10	100
30	26	33	7	49

ศูนย์วิทยทรัพยากร
จุฬาลงกรณ์มหาวิทยาลัย

ตารางที่ 4 ค่าคะแนนการสอบก่อนและสอบหลังสอนในการวัดสัมฤทธิ์ผลทางการเรียนของ
กลุ่มควบคุม

คนที่	Pre - test	Post - test	d	d ²
1	33	36	3	9
2	33	41	8	64
3	27	57	30	900
4	31	46	15	225
5	31	51	20	400
6	31	53	22	484
7	28	49	21	441
8	37	48	11	121
9	24	45	21	441
10	39	53	14	196
11	35	52	17	286
12	35	56	21	441
13	29	38	9	81
14	31	51	20	400
15	37	54	17	289
16	24	38	14	196
17	26	40	14	196
18	37	50	13	169
19	26	49	23	529
20	43	52	9	81

ตารางที่ 4 (ต่อ)

คนที่	Pre - test	Post - test	d	d ²
21	22	39	17	289
22	39	56	17	289
23	22	31	9	81
24	31	40	9	81
25	18	35	17	289
26	28	46	18	324
27	24	35	11	121
28	28	40	12	144
29	17	20	3	9
30	19	30	11	121

ศูนย์วิทยทรัพยากร
จุฬาลงกรณ์มหาวิทยาลัย

ตารางที่ 5 ค่าคะแนนการสอบหลังการสอนของกลุ่มทดลองและกลุ่มควบคุม

คู รู่	Post (E)	Post (C)	d	d ²
1	57	36	21	441
2	51	41	10	100
3	54	57	-3	9
4	41	46	-5	25
5	52	51	1	1
6	52	53	-1	1
7	52	49	3	9
8	50	49	2	4
9	51	45	6	36
10	52	53	-1	1
11	53	52	1	1
12	56	56	0	0
13	47	38	9	81
14	47	51	-4	16
15	51	54	-3	9
16	44	38	6	36
17	35	40	-5	25
18	55	50	5	25
19	47	49	-2	4
20	46	52	-6	36

ตารางที่ 5 (ต่อ)

หมู่ ที่	Post (E)	Post (C)	d	d ²
21	48	39	9	81
22	53	56	-3	9
23	30	31	-1	1
24	53	40	7	49
25	48	35	13	169
26	42	46	-4	16
27	54	35	19	361
28	29	40	-11	121
29	29	20	9	81
30	33	30	3	6

ศูนย์วิทยทรัพยากร
จุฬาลงกรณ์มหาวิทยาลัย

การหาค่าความเที่ยง (Reliability) ของแบบสอบสัมฤทธิ์ผลทางการเรียน
เรื่อง ประเทศเพื่อนบ้าน

สูตรหาความเที่ยงของแบบสอบ

$$r_{tt} = \frac{n\sigma_t^2 - M(n - M)}{\sigma_t^2 (n - 1)}$$

$$r_{tt} = \text{ความเที่ยงของแบบสอบ}$$

$$n = \text{จำนวนข้อคำถาม}$$

$$M = \text{ค่าเฉลี่ยของคะแนน}$$

$$\sigma_t^2 = \text{ค่าความแปรปรวนของคะแนนจากการสอบ}$$

$$r_{tt} = \frac{91 \times 192.43 - 54.15 (91 - 54.15)}{192.43 (91 - 1)}$$

$$= \frac{17511.13 - 1995.43}{17318.70}$$

$$= \frac{15515.70}{17318.70}$$

$$r_{tt} = 0.90$$

ศูนย์วิทยทรัพยากร
จุฬาลงกรณ์มหาวิทยาลัย

ทดสอบความมีนัยสำคัญของความแตกต่างระหว่างคะแนนของนักเรียนในการสอบก่อน
และสอบหลังการสอบ โดยการทดสอบค่าที (t - test)

$$t = \frac{\bar{d}}{s_{\bar{d}}}$$

\bar{d} = คะแนนเฉลี่ยของผลต่างของคะแนนก่อนเรียนและ
หลังเรียน

$s_{\bar{d}}$ = ความคลาดเคลื่อนมาตรฐานของผลต่างของคะแนน
ก่อนเรียนและหลังเรียน หาได้จากสูตร

$$s_{\bar{d}} = \frac{S.D. d}{\sqrt{N - 1}}$$

N = จำนวนคนในกลุ่ม

S.D. d = ส่วนเบี่ยงเบนมาตรฐานของผลต่างของคะแนนก่อนเรียน
และหลังเรียนหาได้จากสูตร

$$S.D. d = \sqrt{\frac{\sum d^2}{N} - \left(\frac{\sum d}{N}\right)^2}$$

$\sum d$ = ผลรวมของผลต่างของคะแนนของนักเรียนก่อนและ
หลังเรียน

$\sum d^2$ = ผลรวมของผลต่างของคะแนนของนักเรียนก่อนและ
หลังการเรียน

N = จำนวนคนในกลุ่ม

ค่า t ของคะแนนสัมฤทธิ์ผลทางการเรียนของกลุ่มทดลองจากการสอบก่อนและ
หลังการสอน

$$t = \frac{\bar{d}}{s_{\bar{d}}}$$

$$\bar{d} = 15.67$$

$$s_{\bar{d}} = \frac{s.p.d}{\sqrt{N-1}}$$

$$= \frac{5.92}{\sqrt{29}}$$

$$= \frac{5.92}{5.38}$$

$$= 1.10$$

$$t = \frac{15.67}{1.10}$$

$$= 14.25$$

ที่ระดับความมีนัยสำคัญ .01 ค่า $t = 2.76$

ศูนย์วิทยทรัพยากร
จุฬาลงกรณ์มหาวิทยาลัย

ค่า t ของสัมประสิทธิ์สหสัมพันธ์ทาง การ เรียงของกลุ่มควบคุมความคุมจากการสอบก่อนและ
หลังการสอบ

$$t = \frac{\bar{d}}{s_{\bar{d}}}$$

$$\bar{d} = 14.87$$

$$s_{\bar{d}} = \frac{S.D.d}{\sqrt{N-1}}$$

$$= \frac{5.59}{\sqrt{29}}$$

$$= \frac{5.59}{5.38}$$

$$= 1.11$$

$$t = \frac{14.87}{1.11}$$

$$= 13.40$$

ที่ระดับความมีนัยสำคัญ .01 ค่า $t = 2.76$

ศูนย์วิทยุทรัพยากร
จุฬาลงกรณ์มหาวิทยาลัย

ค่า t ของคะแนนสัมฤทธิ์ผลทางการ เรียนของกลุ่มควบคุมและกลุ่มทดลอง
จากการสอบหลังการสอน

$$t = \frac{\bar{d}}{s_{\bar{d}}}$$

$$\bar{d} = 2.70$$

$$s_{\bar{d}} = \frac{S.D.d}{\sqrt{N-1}}$$

$$= \frac{7.35}{5.38}$$

$$= 1.37$$

$$t = \frac{2.70}{1.37}$$

$$= 1.97$$

ที่ระดับความมีนัยสำคัญ .05 ค่า $t = 2.04$

ศูนย์วิทยทรัพยากร
จุฬาลงกรณ์มหาวิทยาลัย



ภาคผนวก ข.

แบบทดสอบ

ศูนย์วิทยทรัพยากร
จุฬาลงกรณ์มหาวิทยาลัย

แบบทดสอบเรื่องประเทศเพื่อนบ้าน ชั้นประถมศึกษาปีที่ 6

1. ปัญหาที่สำคัญที่ทำให้การปกครองประเทศของประเทศพม่าไม่สงบเรียบร้อย
 - ก. ภัยธรรมชาติคุกคาม
 - ข. ชนกลุ่มน้อยก่อการจลาจลบ่อย ๆ
 - ค. ภัยคอมมิวนิสต์รุกราน
 - ง. ราคาข้าวตกต่ำมาก

2. ในขณะที่ประเทศเวียดนามตกอยู่ในสภาพ
 - ก. ฟื้นฟูบูรณะประเทศ
 - ข. กำลังทำสงคราม
 - ค. สงครามกำลังจะเกิดขึ้น
 - ง. กำลังก้าวหน้าไปไกล

3. การประชุมสุดยอดของสมาคมอาเซียน ได้จัดที่เมืองไหนที่
 - ก. กรุงเทพฯ
 - ข. บาหลี
 - ค. กัวลาลัมเปอร์
 - ง. เวียงจันทน์

4. สาเหตุที่สหรัฐอเมริกาเข้ามาครอบครองฟิลิปปินส์
 - ก. ชาวฟิลิปปินส์ เรียกร้อง
 - ข. ภัยพิบัติภัยใหญ่ให้เป็นของขวัญแก่สหรัฐอเมริกา
 - ค. สหประชาชาติบังคับสเปน
 - ง. สเปนแพ้สงครามทางเรือกับสหรัฐอเมริกา




-  ศาสนาพุทธ
-  ศาสนาคริสต์
-  อิสลาม
-  นับถือผี
-  พราหมณ์

5. ชาวอินโดนีเซียส่วนใหญ่นับถือศาสนา

ก.



ค.



ข.



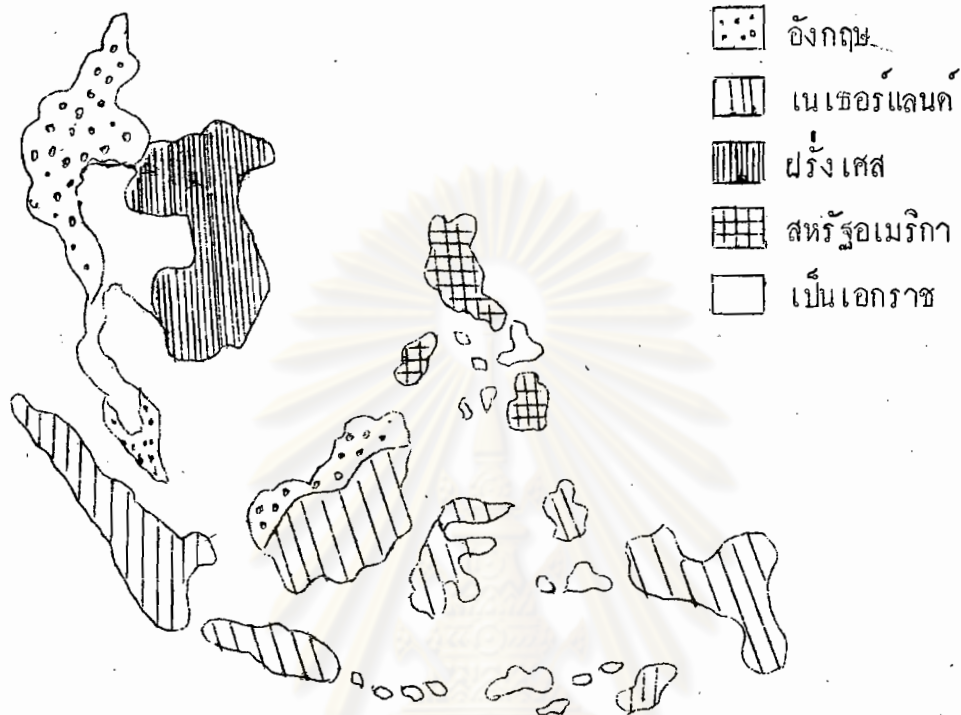
ง.



6. พรรคคอมมิวนิสต์ในฟิลิปปินส์ เรียกว่า
- ก. ลาวทอง
 - ข. การ์เซีย
 - ค. อุกบาลาฮับ
 - ง. ออส เมนา
7. การค้าขายและทำเหมืองแร่ดีบุกของสหพันธมาเลเซีย มักอยู่ในมือของชนชาติ
- ก. อินเดียน
 - ข. มลายู
 - ค. จีน
 - ง. อังกฤษ
8. สิงคโปร์เป็นประเทศที่ตั้งอยู่
- ก. บนแหลมอินโดจีน
 - ข. ทางใต้ของแหลมอินโดจีน
 - ค. ห่างจากแหลมอินโดจีน
 - ง. ตอนกลางของแหลมอินโดจีน
9. ลักษณะภูมิอากาศของสหพันธมาเลเซียซึ่งแตกต่างไปจากไทย
- ก. อากาศหนาวกว่า
 - ข. ฝนตกมากกว่า
 - ค. ฝนตกน้อยกว่า
 - ง. มีพายุไต้ฝุ่นมากกว่า

10. ตะโตะ สุสเซน ออนันท์ ได้รับตำแหน่งนายกรัฐมนตรีนครใหม่ของสหพันธรัฐมาเลเซีย เพราะ
- พรรคการเมืองของ ตะโตะ สุสเซน ออนันท์ ชนะการเลือกตั้ง
 - ประชาชนไม่พอใจและขับไล่ นายกรัฐมนตรีคนก่อน
 - นายกรัฐมาตรีคนก่อนถึงแก่กรรม
 - นายกรัฐมนตรีนครเก่าขอลาออกเอง
11. ตามคำตัดสินของศาลโลกในปี พ.ศ. 2501 ไทยต้องเสีย..... ให้แก่เขมร
- เงินชดเชยค่าปฏิกรรมสงคราม
 - จังหวัดชายแดน 3 จังหวัด
 - ข้าวและเกลือ 5 ล้านตัน
 - ปราสาทเขาพระวิหาร
12. นอกจากดินแดนที่อยู่บนแหลมมลายูแล้ว อีกส่วนหนึ่งที่เป็นของสหพันธรัฐมาเลเซียอยู่บน
- เกาะสุมาตรา
 - เกาะบอร์เนียว
 - เกาะสิงคโปร์
 - เกาะปินัง
13. แหล่งกำเนิดสินค้าปลาของเขมร คือ
- แม่น้ำโขง
 - ทะเลสาบ
 - เกาะกง
 - ท่าเรือน้ำลึก

ขอ 14, 16, 18 และ 23



14. หลังจากทีสเปนไม่ได้ครอบครองฟิลิปปินส์ ประเทศที่เข้ามาปกครองต่อมาคือ
- อังกฤษ
 - ฝรั่งเศส
 - สหรัฐอเมริกา
 - เนเธอร์แลนด์
15. ในสงครามเวียดนาม สหรัฐอเมริกาให้การสนับสนุนฝ่าย
- เวียดนามใต้
 - ลาวทอง
 - เวียตมินห์
 - เวียดนามเหนือ

16. ประเทศฝรั่งเศสเคยครอบครองดินแดนถึง 3 ประเทศ ที่อยู่ในอินโดจีน

- ก. ลาว เขมร มาเลเชีย
- ข. มาเลเชีย เขมร เวียดนาม
- ค. เขมร ไทย เวียดนาม
- ง. ลาว เขมร เวียดนาม

17. อาชีพที่สำคัญของชาวเขมรรองจากการทำนาคือ

- ก. การทอผ้า
- ข. การค้าขาย
- ค. การชุกแร่
- ง. การประมง

18. ประเทศที่เคยตกเป็นอาณานิคม (เมืองขึ้น) ของอังกฤษ ได้แก่

- ก. ไทย พม่า สิงคโปร์
- ข. สิงคโปร์ พม่า มาเลเชีย
- ค. มาเลเชีย สิงคโปร์ อินโดนีเซีย
- ง. มาเลเชีย พม่า ฟิลิปปินส์

19. ก่อนสงครามโลกครั้งที่ 2 อินโดนีเซีย อยู่ใต้อาณัติของของประเทศ

- ก. เนเธอร์แลนด์
- ข. ฝรั่งเศส
- ค. อังกฤษ
- ง. สหรัฐอเมริกา


20. สงครามในเวียตนามครั้งหลังสุด พ.ศ. 2518 ผลปรากฏว่าฝ่าย
เป็นฝ่ายแพ้
- ก. เวียตนามเหนือ
 - ข. เวียตนามใต้
 - ค. เวียตมินห์
 - ง. ลาวทอง
21. เมืองที่เคยเป็นของไทยและไทยต้องเสียให้แก่ฝรั่งเศส ใน ร.ศ. 112 ขณะนี้เป็นของลาวคือ
- ก. ปากเซ
 - ข. ซำเหนือ
 - ค. จำปาศักดิ์
 - ง. เวียงไชย
22. เครื่องดนตรีที่ชาวลาวนิยมเล่นกัน ได้แก่
- ก. ซออู้
 - ข. ซิม
 - ค. แคน
 - ง. ซลุ่ย
23. กอนท์ตกเป็นเมืองขึ้นของฝรั่งเศส เขมรเคยตกเป็นเมืองขึ้นของประเทศ
- ก. จีน
 - ข. ไทย
 - ค. อินเดี๋ย
 - ง. พม่า



24. เนื่องจากที่ตั้งของประเทศลาวเป็นเช่นนี้ ทำให้ชาวลาวยังไม่สามารถประกอบอาชีพ


ก.

ค.



ข.

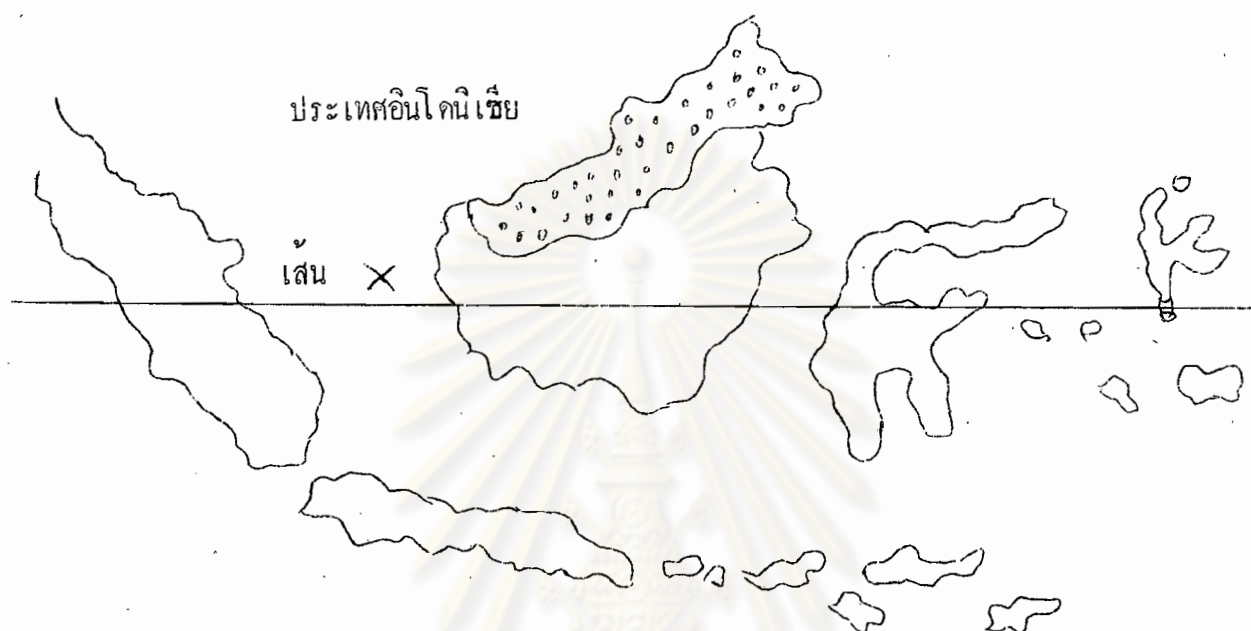
ง.





25. ประเทศที่อยู่ทางทิศตะวันตกของพม่าคือ
- บังคลาเทศ
 - ไทย
 - ลาว
 - เขมร
26. เนื้อที่ของประเทศไทยมีขนาด ประเทศไทย
- ใหญ่กว่า
 - น้อยกว่า
 - เท่ากัน
 - ไม่ใช่ทั้ง 3 ข้อ

27. ฟิลิปปินส์เคยตกเป็นเมืองขึ้นของ ก่อนที่สหรัฐอเมริกาเข้ามา
- สเปน
 - ฝรั่งเศส
 - อังกฤษ
 - เนเธอร์แลนด์
28. นายกรัฐมนตรีคนปัจจุบันของลาว
- เจ้าสุภานุวงศ์
 - เจ้าสุวรวงศ์
 - ท้าวบุญ ชนนิกร
 - ท้าวไกรสร พรหมวิหาร
29. สาเหตุที่ทำให้พม่าต้องเสียเอกราชแก่อังกฤษ
- ข้าราชการฉ้อราษฎร์บังหลวง
 - แย่งอำนาจกันเองและต่อต้านชาวผิวขาว
 - เป็นหนี้ต่างชาติจนล้มพันตัว
 - ถูกประเทศเพื่อนบ้านรุกราน



30. เนื่องจากที่ตั้งของประเทศอยู่บนเส้นรุ้งนี้ ทำให้อากาศประเทศอินโดจีน

- ก. หนาว
- ข. ร้อน ฝนชุก
- ค. อบอุ่น
- ง. ร้อน ไม่มีฝน

31.



เป็นส่วนหนึ่งของประเทศ

- ก. อินโดจีน
- ข. สิงคโปร์
- ค. มาเลเซีย
- ง. ฟิลิปปินส์

32. การที่ประเทศดำเนินนโยบายแบบอิสระพึ่งตนเองไม่เกี่ยวข้องกับประเทศเพื่อนบ้าน และไม่ยอมให้ต่างชาติเข้าไปลงทุนในพม่า ทำให้พม่า
- ถูกต่างชาติรุกรานมากขึ้น
 - เศรษฐกิจตกต่ำมาก
 - ความเป็นอยู่ของประชาชนดีขึ้น
 - ฐานะของประเทศมั่นคง
33. ก่อนสงครามโลกครั้งที่ 2 ลาวเคยตกเป็นเมืองขึ้นของประเทศ
- อังกฤษ
 - โปรตุเกส
 - เนเธอร์แลนด์
 - ฝรั่งเศส
34. โขจิมินท์ คือ
- อดีตประธานาธิบดีเวียตนามใต้
 - อดีตประธานาธิบดีเวียตนามเหนือ
 - อดีตนายกรัฐมนตรีเวียตนามใต้
 - อดีตนายกรัฐมนตรีเวียตนามเหนือ
35. ขนบธรรมเนียมประเพณีของพม่าได้รับอิทธิพลมาจากศาสนา
- พุทธ
 - อิสลาม
 - คริสต์
 - พราหมณ์

36. ประมุขของมาเลเซียจะตงนับถือศาสนา

- ก. พุทธ
- ข. อิสลาม
- ค. คริสต์
- ง. ฮินดู

37. ปัจจุบันประมุขของลาวได้แก่

- ก. พระมหากษัตริย์
- ข. ประธานาธิบดี
- ค. นายกรัฐมนตรี
- ง. ประธานประเทศ

38. ศิลปการแต่งกายของชาวฟิลิปปินส์ได้รับอิทธิพลมาจาก

- ก. สหรัฐอเมริกา
- ข. จีน
- ค. มาเลเซีย
- ง. สเปน

39. ภาษาที่นิยมใช้รองจากภาษาเขมรคือ

- ก. ไทย
- ข. ฝรั่งเศส
- ค. อังกฤษ
- ง. บาลีสันสกฤต

40. ชนกลุ่มน้อยในพม่าประกอบด้วย

- ก. จีน อินเดี๋ย ไทย
- ข. ไทยใหญ่ เขมร คะฉิ่น
- ค. คะฉิ่น กะเหรี่ยง ชิน
- ง. คะยา มอญ ฉวน

41. ชนชาติที่มีมากที่สุดในสิงคโปร์

- ก. อังกฤษ
- ข. มลายู
- ค. จีน
- ง. อินเดี๋ย

42. ลักษณะเด่นของชาวเวียตนามซึ่งแตกต่างจากไทย คือ

- ก. ชาตินิยม
- ข. เอื้อเฟื้อเผื่อแผ่
- ค. ใจเย็น รักสงบ
- ง. ไม่ใช้ทั้ง 3 ข้อ

ข้อ 43 และข้อ 48



43. หมายเลข 2 หมายถึง

- ก. นครจำปาศักดิ์
- ข. สาละวัน
- ค. เวียงจันทน์
- ง. เวียงไชย

44. ผู้นำในการเรียกร้องเอกราชและได้เป็นประธานาธิบดีคนแรกของอินโดนีเซีย คือ

- ก. ซูฮาร์โต
- ข. โซการ์โน
- ค. นาซูเทียน
- ง. อัมมี มาลิค

45. เส้นรุ้งที่ผ่านประเทศอินโดนีเซีย คือ
- เส้นศูนย์สูตร
 - เส้นทรอปิคออฟเคน เซอร์
 - เส้นทรอปิคออฟแคปรีคอน
 - เส้นอาร์กติกเซอร์เคิล
46. ลักษณะของแม่น้ำในสิงคโปร์เป็นแบบ
- แม่น้ำนานาชาติ
 - สายโลหิตเลี้ยงทั้งประเทศ
 - สายสั้นและไหลลงสู่ทะเล
 - มีเกาะแก่งอยู่ในลำน้ำ
47. สงครามในประเศเขมรระหว่างลอนนอลกับขบวนการปลดแอก ประเทศกัมพูชา (ปี พ.ศ. 2513 – 2518) สหรัฐอเมริกาให้การสนับสนุนฝ่าย
- เจ้าสีหนุ
 - เขี้ยวสัมพันธ์
 - เปญนุต
 - ลอนนอล

46. ภูมิประเทศทางภาคเหนือของลาว (ดูแผนที่ข้อ 43)

ก.



ข.



ค.



ง.



ศูนย์วิจัยทรัพยากร
จุฬาลงกรณ์มหาวิทยาลัย

49. ขนบธรรมเนียมประเพณีของสหพันธรัฐมาเลเซียมีความคล้ายคลึงกับ

- ก. ไทย
- ข. อินโดนีเซีย
- ค. อังกฤษ
- ง. อินโดนีเซีย

50. การรบครั้งสำคัญระหว่างเวียตนามกับฝรั่งเศส ซึ่งฝรั่งเศสปราบอย่างย่อยยับ เป็น
เป็น สงครามที่เกิดขึ้นที่เมือง

- ก. ไช้ฮอน
- ข. ไฮฟอง
- ค. เกียนเบียนฟู
- ง. ฮานอย

51. ชนชาติที่มีอำนาจปกครองเวียตนามก่อนที่ชาตินิยมจะเข้ามากครอบครอง

- ก. ไทย
- ข. อินโดนีเซีย
- ค. ขอม
- ง. จีน

52. ศาสนาที่ชาวเวียตนามนิยมนับถือกันมาก

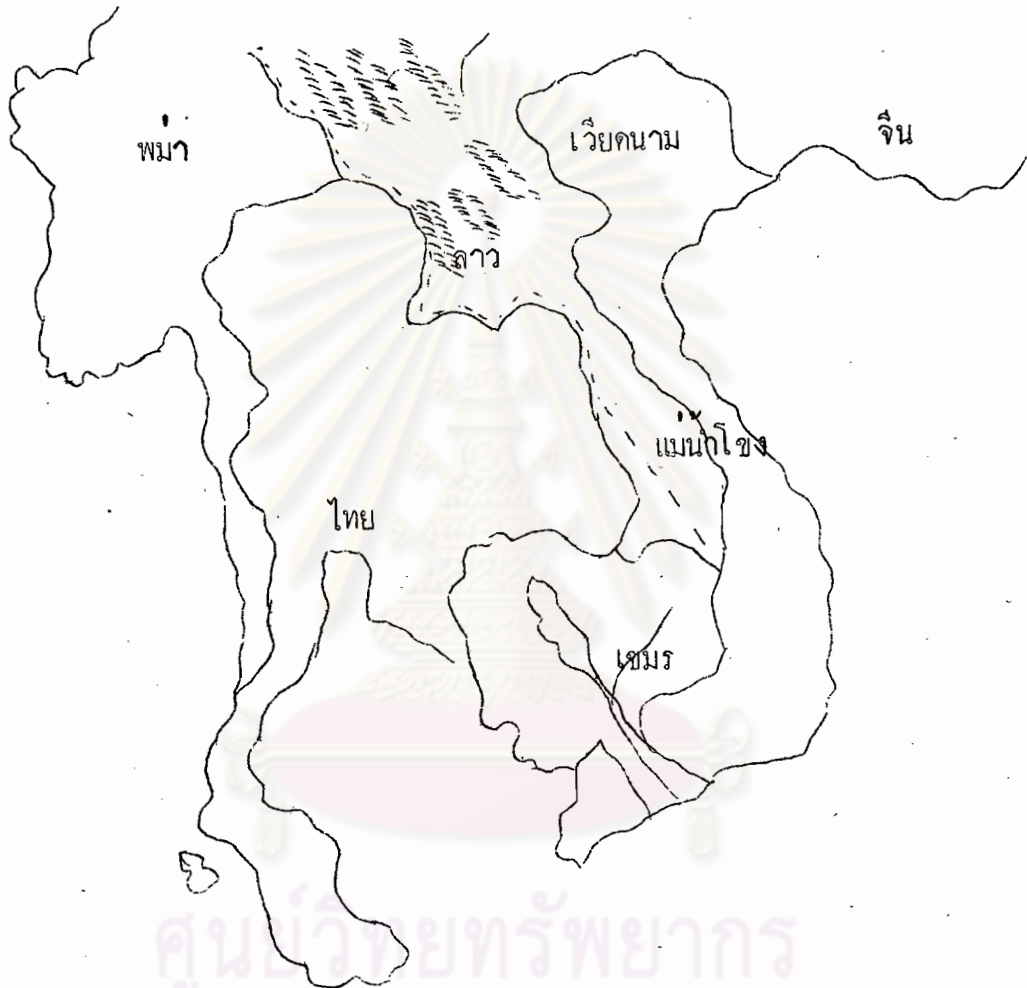
- ก. พุทธ อิสลาม
- ข. พุทธ คริสต์
- ค. คริสต์ อิสลาม
- ง. อิสลาม ขงจื้อ

53. วันชาติของฟิลิปปินส์ตรงกับวันชาติของประเทศ
- ก. สหรัฐอเมริกา
 - ข. สเปน
 - ค. เนเธอร์แลนด์
 - ง. โปรตุเกส
54. ในกลุ่มประเทศเอเชียตะวันออกเฉียงใต้ นับว่าประเทศพม่าเป็นแหล่งผลิต ที่สำคัญแห่งหนึ่งของโลก
- ก. น้ำมันปิโตรเลียม
 - ข. กัญชา
 - ค. ยางพารา
 - ง. ข้าว
55. ในปัจจุบันนี้สิ่งคิโปรมีอัตราการเกิดของประชากร
- ก. สูงขึ้นมาก
 - ข. สูงขึ้นบ้าง
 - ค. เท่าเดิม
 - ง. ลดลง



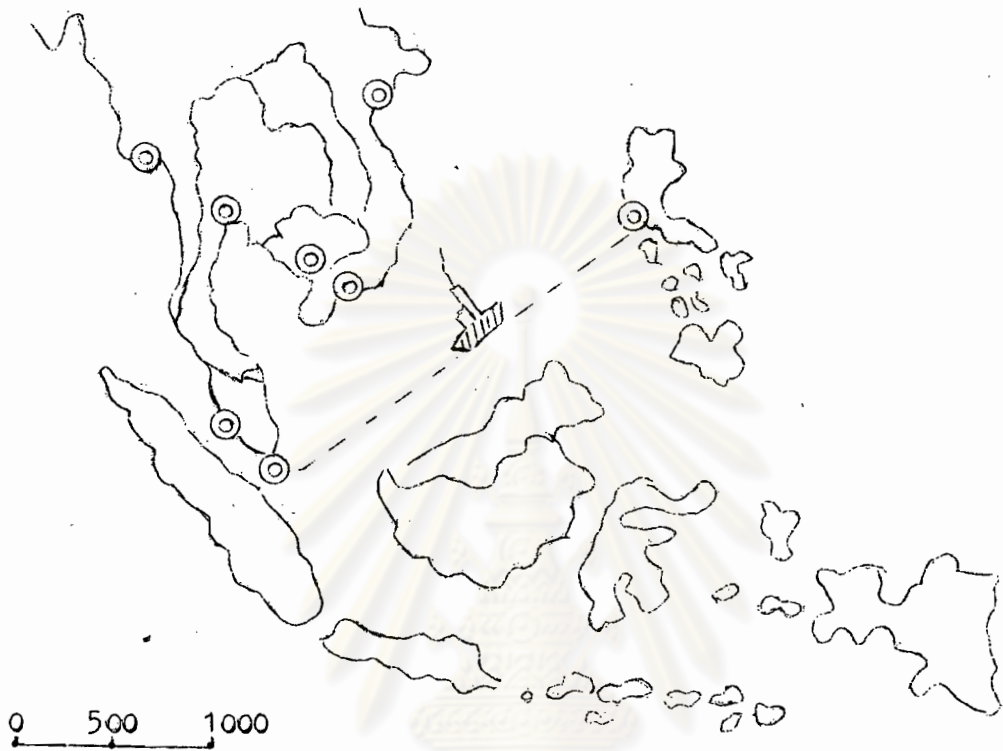
56. ดินแดนตั้งอยู่ในมหาสมุทร

- ก. อินเดีย
- ข. แอควาติก
- ค. แปซิฟิก
- ง. แอนตาร์กติค




ศูนย์วิทยทรัพยากร
จุฬาลงกรณ์มหาวิทยาลัย

57. ปากแม่น้ำโขงอยู่ที่ประเทศ
- ก. เวียดนามเหนือ
 - ข. ลาว
 - ค. เขมร
 - ง. เวียดนามใต้



มาตราส่วน : กิโลเมตร

58. ถ้าเดินทางด้วยเรือ ซึ่งมีความเร็ว 500 กม. : 1 วัน จากสิงคโปร์ถึง เกซอนซิตี จะใช้เวลา
- 3 วัน
 - 4 วัน
 - 5 วัน
 - 6 วัน
59. การเดินทางจากสิงคโปร์ถึง เกซอนซิตี เรือจะต้องเล่นผ่าน
- ทะเลอันดามัน
 - ทะเลจีนใต้
 - ทะเลชวา
 - ทะเลจีนใต้



60.

ภูมิประเทศในกรอบนี้เป็น

- ก. ภูเขา
- ข. ทะเลสาบ
- ค. ปากแม่น้ำโขง
- ง. แหลมไซгон



ปริมาณน้ำฝน เดือนมกราคม



100 มิลลิเมตร



100 - 300 มิลลิเมตร



400 มิลลิเมตร

61. ดินแดนส่วนมากของฟิลิปปินส์และอินโดนีเซีย ฝนตกมีปริมาณ

ก. มากที่สุด

ข. มาก

ค. ปานกลาง

ง. น้อย



62. หมายเลข 1 คือकिनแดนของประเทศ

- ก. มาเลเซีย
- ข. อินโดนีเซีย
- ค. ฟิลิปปินส์
- ง. ไทย

63. พื้นที่ส่วนใหญ่ของประเทศสิงคโปร์ใช้ในด้าน

ก.



ข.



ค.



ง. ชุกแร็คบูก

ประวัติการศึกษา

ชื่อ

นางดิฉิ่ง อินทร์พรชัย

วุฒิทางการศึกษา

สำเร็จการศึกษาปริญญาครุศาสตรบัณฑิต คณะครุศาสตร์
จุฬาลงกรณ์มหาวิทยาลัย ปีการศึกษา 2511

ตำแหน่งหน้าที่การงาน

อาจารย์โท แผนกวิชาประถมศึกษา
คณะครุศาสตร์ จุฬาลงกรณ์มหาวิทยาลัย

ศูนย์วิทยทรัพยากร
จุฬาลงกรณ์มหาวิทยาลัย